



# Svenska havsområden och utbredning av sälpopulationer.



Du får instruktioner på skärmen vad du ska skriva på de tomma raderna.

Sälar i Sverige





.....  
.....

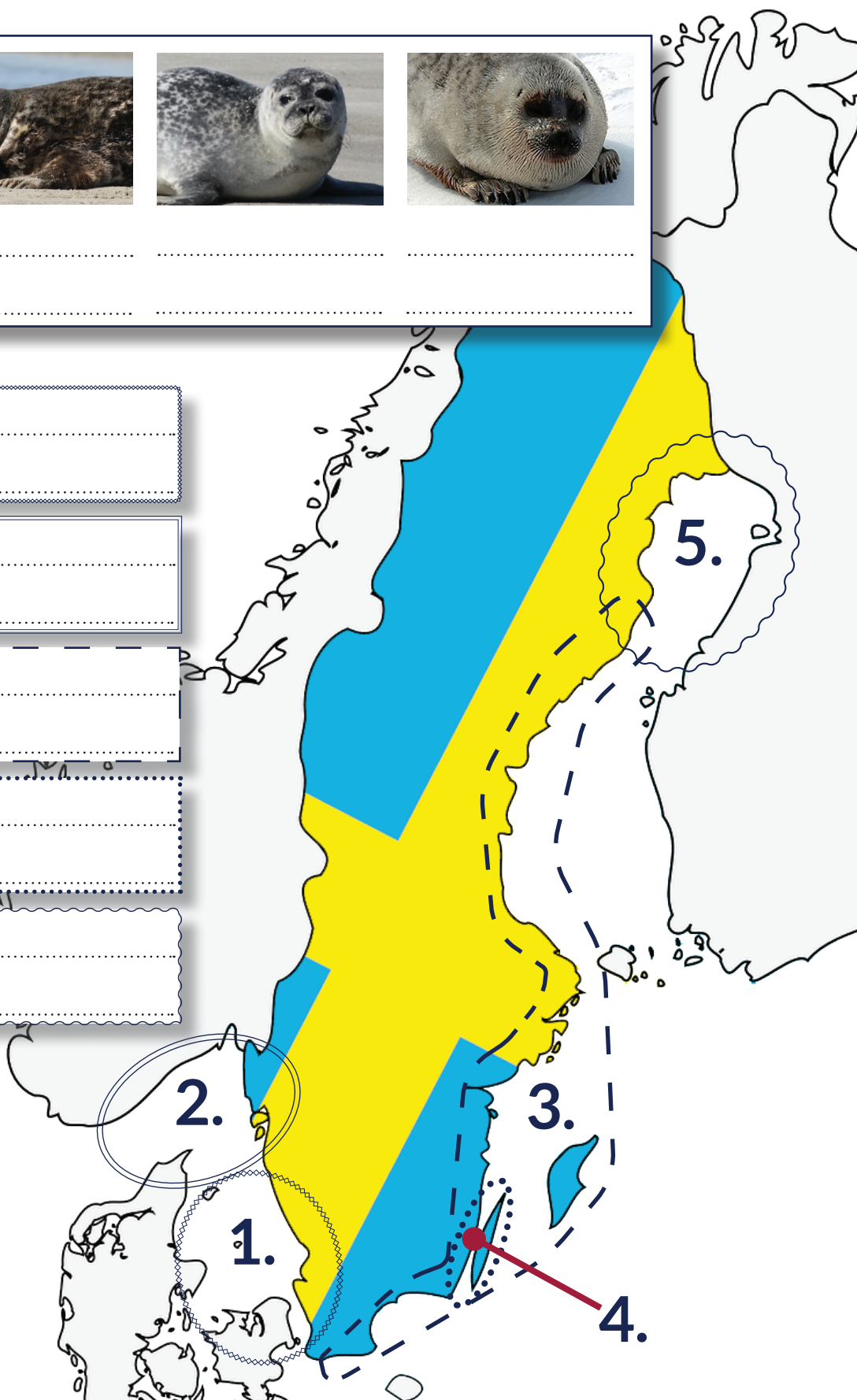
1  

2  

3  

4  

5  



Du får instruktioner på skärmen vad du ska skriva på de tomma raderna.

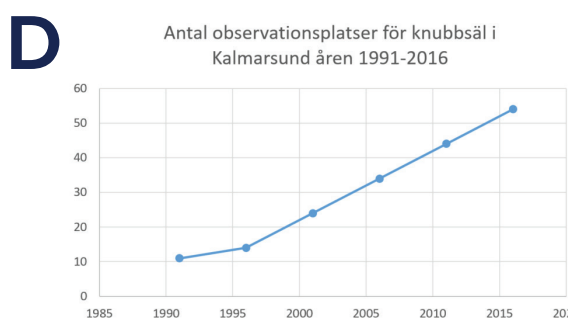
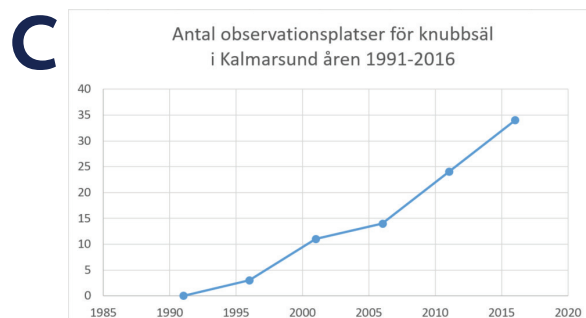
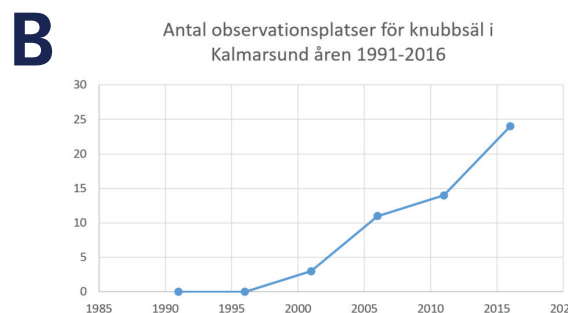
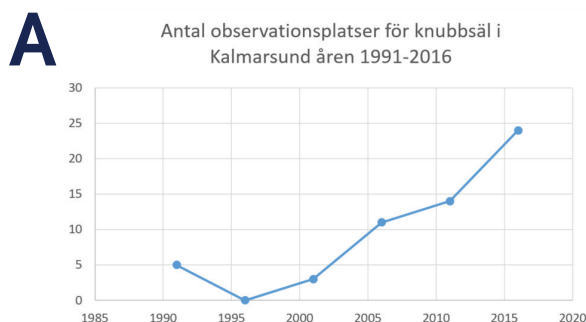


# Knubbsäl, *Harbour seal*

1. Fyll i tabellen med data från SharkWeb.

Årtal	Antal platser (orange prickar) där knubbsäl har observerats i Kalmarsund (Östersjön). Tips! Zooma in på kartan och räkna prickarna.
1991	
1996	
2001	
2006	
2011	

2. Vilket av diagrammen visar förändringarna i Östersjöpopulationen under åren 1991-2016? .....



3. Beskriv utvecklingen för knubbsälarna i Kalmarsund (Östersjön) utifrån de observationer som gjorts under åren 1991-2016.

.....

.....

.....

.....



Du får instruktioner på skärmen vad du ska skriva på de tomma raderna.



## Vikare, Ringed seal

1. Hypotes

.....

.....

.....

.....

2. Beskriv sambandet mellan observationerna av vikare och istäckets utbredning i Bottenviken.

.....

.....

.....

.....

3. På grund av klimatförändringarna kan man förvänta sig fler vintrar med lite eller ingen is i Bottenviken.

Hur tror du att det kan påverka vikarpopulationen i Östersjön?

.....

.....

.....

.....